



Състезание „Аз и числата”

II клас

Училище: ..... клас: .....  
Име, презиме, фамилия: .....

1. Продължи с три числа всяка от редиците:

- 20, 22, 24, \_\_\_\_, \_\_\_\_, \_\_\_\_  
11, 22, 33, \_\_\_\_, \_\_\_\_, \_\_\_\_  
95, 90, 85, \_\_\_\_, \_\_\_\_, \_\_\_\_  
99, 89, 79, \_\_\_\_, \_\_\_\_, \_\_\_\_



2. Кое число трябва да се постави на мястото на празното квадратче? Огради верния отговор.

$$20 - 9 < \square < 37 - 24$$

- а) 11;  
б) 12;  
в) 13.

\_\_\_\_\_

\_\_\_\_\_

\_\_\_\_\_

3. Днес, 27 януари, е четвъртък. Какъв ден от седмицата ще бъде 31 януари тази година? Огради верния отговор.

- а) събота;  
б) понеделник;  
в) неделя.

Януари 2011						
Понеделник	Вторник	Сряда	Четвъртък	Петък	Събота	Неделя
					1	2
3	4	5	6	7	8	9
10	11	12	13	14	15	16
17	18	19	20	21	22	23
24	25	26	27	28	29	30
31						

4. В двете квадратчета Незнайко трябва да напише едно и също събираемо, така че да е вярно равенството:

$$\square + \square + 1 = 15$$

Кое е това събираемо?

Огради верния отговор.

- а) 14;
- б) 6;
- в) 7.



5. Едното събираемо е с 16 по-малко от 40, а другото е 18.  
Сборът е:

Огради верния отговор.

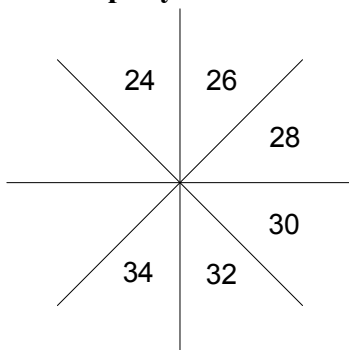
- а) 34;
- б) 42;
- в) 58.

---

---

---

6. Открой и запиши пропуснатите числа.



7. Постави пропуснатия знак <, > или =.

$4 + 4 \_ 12 - 5$

$16 - 6 \_ 9 + 8$

$6 + 17 \_ 8 + 15$

8. Мария започнала да чете книжка с приказки в 10.00 ч. в четвъртък. Прочела я за 6 денонощия. В кой ден от седмицата е свършила?

Огради верния отговор.

а) вторник;

б) сряда;

в) четвъртък.

---

---

---

---



9. Майката на Валя започва работа в 8 часа. На обяд има почивка от 1 час. Приключва работа в 17 часа. Колко часа работи майката на Валя?

а) 10 часа;

б) 9 часа;


в) 8 часа.

---

---

---

---



10. В коя задача могат да се използват съдружителното и разместителното свойство едновременно?

Огради верния отговор.

а)  $32 + 27 - 18$ ;

б)  $32 + 27 + 18$ ;

в)  $27 + 18 - 32$ .

11. Ема има един лев. Колко стотинки ще й останат, ако си купи молив за 45 ст. и гума, която е с 5 ст. по-евтина от молива?

Огради верния отговор.

а) 50 ст.

б) 40 ст.

в) 15 ст.

---

---

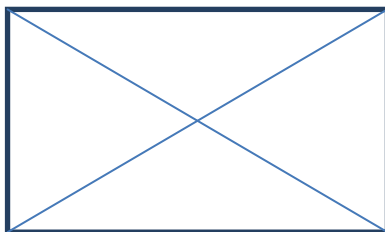
---

---



12. Колко са триъгълниците на чертежа? Огради верния отговор.

- а) 4;
- б) 6;
- в) 8.



13. Ако сбора на 62 и 18 умалим с разликата на 55 и 35 ще получим:

Огради верния отговор.

- а) 60;
- б) 50;
- в) 70.


---

---

---

---


---



14. Едното събираемо е най-голямото едноцифрено число, а другото събираемо е разликата на 99 и 9. Колко е сбора?

Огради верния отговор.

- а) 90;
- б) 99;
- в) 9.



---

---

---

---