



III клас

/училище/


/име, презиме, фамилия/

**1. Националният празник на България е:
Огради.**

- а) на Великден;
- б) на Нова година;
- в) на 3 март.

2. Между кои два сезона времето става по-топло? Огради.

- а) между есента и зимата;
- б) между зимата и пролетта;
- в) между лятото и есента.



**3. Стихът „Мила Родино,
ти си земен рай!“ е откъс от:**

- а) любима детска песен;
- б) химна на Република България;
- в) стихотворението „Аз съм българче“.

4. Символите на всяка държава са:

Запиши.

а) _____

б) _____

в) _____



5. Допиши.

Моята родина е _____ . Столицата е град

_____ . Аз съм роден в _____ .

6. Запиши ДА или НЕ срещу всяко твърдение.

1. Водата приема формата на съда,
в който е поставена.


2. Водата е разтворител.

3. Въздухът има мирис и вкус.

4. Въздухът поддържа горенето.

7. Оцвети държавните граници на Република България

– водните със син цвят, а сухопътните с червен.



8. Водата се изпарява по-бързо, когато:

- а) времето е по-топло;
- б) времето е по-студено;
- в) вали дъжд.

9. Попълни в таблицата (+), ако тялото има постоянна форма и обем и (-), ако няма.

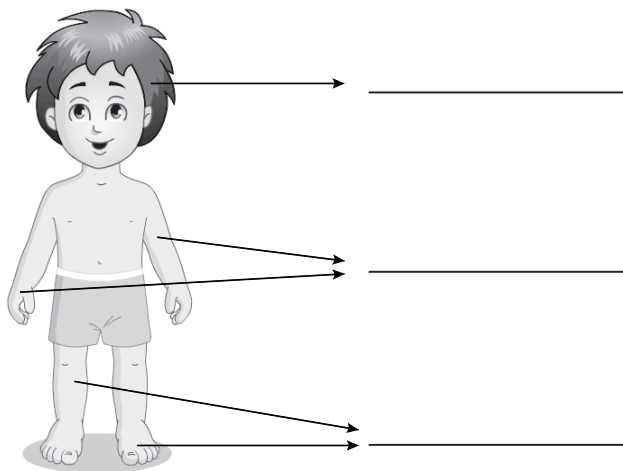
	форма	обем
твърди тела		
течности		
газове		

10. В коя посока се движим, ако пътуваме:

- а) от София към Бургас? на _____
- б) от Силистра към Бургас? на _____
- в) от Бургас към София? на _____



11. Напиши частите на човешкото тяло.



12. Попълни пропуснатите думи:

/Балкански полуостров, Европа, земната повърхност, цветове, условни знаци/

Географската карта е умалено изображение на

_____ . Съдържанието ѝ се изобразява с

_____ и _____ . България

е разположена в континента _____ . Разположена

е в неговата югоизточна част, наречена _____ .

13. Коя двойка превозни средства не замърсяват въздуха?

а) автомобил и велосипед;

б) трамвай и тролей;

в) метро и автобус.

