



АЗ И ЧИСЛАТА

III клас

/училище/

/име, презиме, фамилия/

- 1. Росица е висока 140 см и е с 25 см по-висока от Милена. Василена е с 1 дм по-ниска от Милена. Колко е високо всяко от момичетата в сантиметри?**

Росица _____

Милена _____

Василена _____



- 2. Постави знаците <, > или = така, че да е вярно.**

87 лв. _____ 870 ст.

1 км _____ 220 м + 770 м

581 кг + 19 кг _____ 605 кг

3. Попълни така, че квадратът да е магически със сбор 81.

	27	11
23		39

4. За Коледа украсили курортен комплекс с 1000 фигурки. Топките са половината, звездите са с 340 по-малко от топките, а останалите фигурки са камбанки. Колко са камбанките?

Камбанките са _____

5. Класът на Петьо тръгнал на разходка в колона по двама. Петьо се обърнал назад и преброил 8 двойки деца. Пред себе си виждал 4 двойки деца. Колко са всички деца? Огради верния отговор.

а) 26;

б) 24;

в) 30.



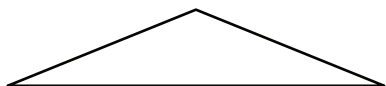
6. Огради буквите пред верните равенства.



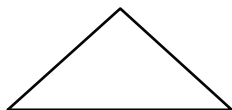
- а) 1 км = 100 м
- б) 1 см = 10 мм
- в) 1 кг = 100 г
- г) 1 лв. = 100 ст.
- д) 1 час = 100 мин.

7. Огради буквата пред остроъгълния триъгълник.

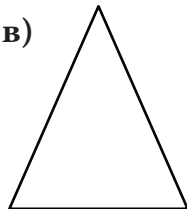
а)



б)



в)



8. Попълни таблиците по образеца.

903	$9.100 + 0.10 + 3.1$
672	

192	$1.100 + 9.10 + 2.1$
	$4.100 + 3.10 + 0.1$

9. Запиши липсващото число.

$$42 + 6 + \square = 51$$

$$33 - 2 + \square = 39$$

$$53 + 7 + \square = 65$$

$$49 - 4 + \square = 53$$

$$73 - 2 + \square = 80$$

$$60 + 4 + \square = 71$$

