



Състезание „Аз, природата и светът”

III клас

Училище: клас:.....

Име, презиме, фамилия:

1. Свържи със стрелки цветовете на условните знаци на географската карта и значението им.

Кафяв	равнини и низини
Зелен	води – реки, езера, морета, океани
Син	планини

2. В таблицата са написани петте части на кръговрата на водата в природата. Номерирай частите в последователността, в която се случват.

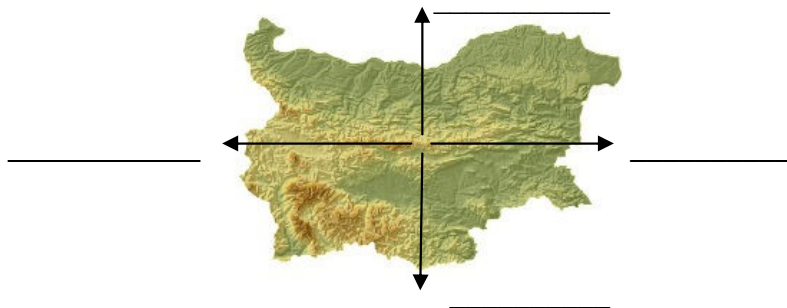
Водните пари се издигат във въздуха.	
Водата се влива в морето.	
Водата се изпарява от морето.	1
Водата пада на земята като дъжд.	
Водата се втечнява и образува облаци.	

3. Когато си приготвяме чай, му слагаме захар. Чаят е сладък, защото:




- а) водата е течност;
- б) водата е прозрачна;
- в) водата е разтворител.



4. Напиши основните посоки.



5. Свържи наименованията на организмите с начина на хранене, който имат:



Самостояно
хранене

Несамостояно
хранене

6. Това е ханът, който обединил славяни и прабългари, победил византийската армия и създал държава, наречена България. За столица избрал селището Плиска.

Огради верния отговор.

Ханът е:

- а) хан Крум;
- б) хан Аспарух;
- в) хан Омуртаг.

Годината е:

- а) 861 г.
- б) 618 г.
- в) 681 г.



7. Защо съдовете, пълни с вода, през зимата се чупят, ако са затворени? Огради верния отговор.

- а) защото водата замръзва и ледът се разширява;
- б) защото водата се изпарява;
- в) защото водата не поддържа горенето.

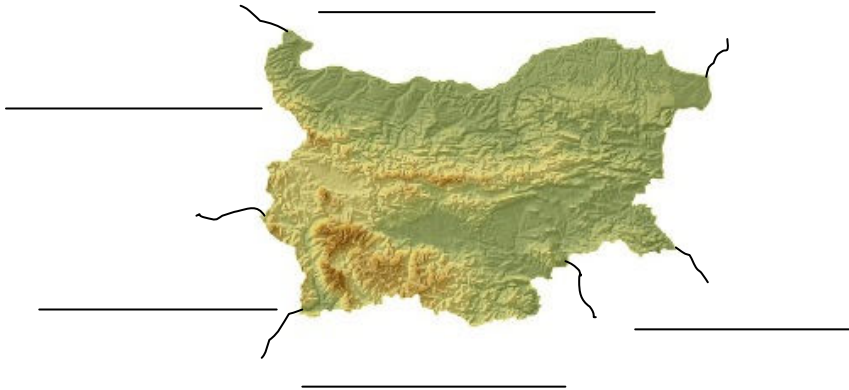


8. Кое твърдение за водата НЕ е вярно?

Огради верния отговор.

- а) Водата се разлива.
- б) Водата в морето се използва за напояване.
- в) Водата се пречиства в пречиствателни станции.

9. Напиши държавите, с които граничи България.



10. В кой ред са изброени само представители на неживата природа?

Огради верния отговор.

- а) Слънце, дърво, дете, река;
- б) скала, море, планета, въздух;
- в) куче, цвете, вятър, птица.



11. Свържи, за да получиш вярно твърдение:

Картата	е ниска земя без голяма разлика във височините.
Равнина	е най-горният рохкав слой на сушата, в който се развиват корените на растенията.
Почва	е чертеж, на който земната повърхност е изобразена в силно умален вид, с помощта на условни знаци и цветове.

12. Прочети описанието и познай коя е географската област:

„Тя е обширна и се намира в Северна България. Разположена е на юг от река Дунав и на север от Стара планина. В източната ѝ част се намира житницата на България – Добруджа. Земите ѝ са напоявани от реките Искър, Осъм, Янтра, Лом и други.”

Географската област е:

- а) Черно море;
- б) Горнотракийска низина;
- в) Дунавска равнина.

13. Кое животно се придвижва като плува?

Огради верния отговор.

- а) риба;
- б) орел;
- в) катерица.



14. Столицата на България е град:

Огради верния отговор.

- а) Варна;
- б) Силистра;
- в) София.

Тя се намира до:

Огради верния отговор.

- а) Черно море;
- б) Дунав;
- в) Витоша.

