



НАЦИОНАЛНО ФИНАЛНО СЪСТЕЗАНИЕ

IV клас

/училище/

/име, презиме, фамилия/

1. В кое изречение подлогът е изразен с лично местоимение? Огради верния отговор.

- а) Момиченцата побягнаха уплашени.
- б) Те облякоха новите си рокли.
- в) Старчето ги погледна и се усмихна.




2. Допиши с пълен или с кратък определителен член, за да е вярно.

/По Захарий Стоянов/

Четник___ извади зелено копринено знаме с лъвче,
прикачи го на прът___ и високо го развя. Параход___
приблужи Козлодуй. Ботев даде знак и капитан___ се
насочи към брег___ . Пръв скочи войводата.

3. Подчертаните думи в изреченията са:

- а) числителни имена;
- б) сродни думи;
- в) синоними.



Дядо донесе два големи шарана.

Иван отново получи двойка по български език.

Броят на птиците в гнездото се удвои.

4. Огради НЕВЯРНОТО твърдение.

Васил Левски

- а) създава революционни комитети;
- б) обесен е край София;
- в) пише революционна поезия.

Георги Сава Раковски

- а) пръв създава план за освобождение;
- б) организира Първата българска легия;
- в) влиза в България с кораба „Радецки“.

5. Напиши верните отговори. Какво съдържа всеки откъс?

описание на обстановка; разсъждение; портретно описание на герой.

„Левски имаше ръст среден, тънък и строен; очи сиви, почти сини, мустаци червеникави, коса руса, лице бяло, околчесто...”

„Източната стена на бабината стая беше покрита с дъсчени и хартиени икони, дървени и металически кръстове, сребърни и бронзови кандила.”

„Отечество наричаме ние България, защото в нея са живели от памтивека нашите отци и деди. Родина я наричаме затова, защото сме се в нея родили, в нея се говори родният наш език и всичко в нея е сродно нам.”

6. Образувай сложни думи от изразите. Запиши ги.

който пече хляб – _____

който обича родината – _____

валеж на сняг – _____

7. Кое изречение е сложно по състав?

а) Заваляха първите студени дъждове.

б) Опадалите листа покриха земята.

в) Дойде хладната есен и гъсти мъгли запълзяха.

8. Представи като произведение от три равни множителя числата: 8, 64, 125, 216, 512

8 = _____ 216 = _____

64 = _____ 512 = _____

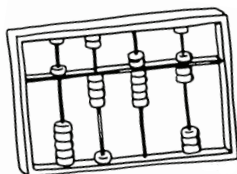
125 = _____

9. Кое пресмятане трябва да се извърши, за да се намери неизвестното делимо в задачата: $\square : 5 = 1\ 256$?

а) 1256 да се раздели на 5;

б) 1256 да се умножи с 5;

в) към 1256 да се прибави 5.



10. Пресметни.

$(7\ 361 - 6\ 871) : 7 =$ _____

$(20\ 394 - 19\ 402) : 8 =$ _____

$(760\ 534 - 759\ 814) : 9 =$ _____

11. Квадрат и равностранен триъгълник имат еднакви страни. Сборът от обиколките им е 63 дм.

Лицето на квадрата е: _____

- а) 81 кв. дм; б) 36 кв. дм; в) 63 кв. дм.

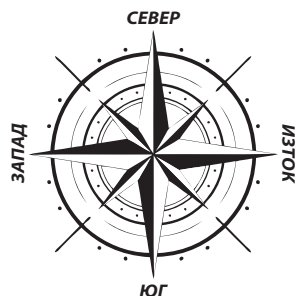
12. В каква посока от следните държави се намира България?

а) от Сърбия - на _____

б) от Румъния - на _____

в) от Гърция - на _____

г) от Турция - на _____



13. ТЕЦ, ВЕЦ и АЕЦ са съкратени названия за:

- а) полезни изкопаеми; б) нефтени заводи; в) ел. централи.

14. Свържи думата с нейното значение.

карта

най-висока точка
на планината

язовир

изкуствено езеро

връх

умалено изображение
на земната повърхност



15. Смяната на сезоните се дължи на:

- а) въртенето на Земята около Слънцето;
б) наклона на земната ос;
в) въртенето на Земята около нейната ос.