



„Национален финален тест”

II клас

Училище: клас:.....

Име, презиме, фамилия:

1. Образувай съществителни собствени имена от следните съществителни нарицателни:

- Злато - _____
- Здраве - _____
- Петък - _____
- Цвете - _____
- Огън - _____




2. Отдели думите в изречението и го запиши вярно.

Слънцетосеусмихнаипогалистоплитесильчидететопоглавицата.


3. Калин чете книга от 50 страници. Първия ден прочел 8 страници, втория ден – с 4 по-малко от първия, а третия ден прочел 3 пъти повече, отколкото през втория ден. Колко страници му остават да прочете?

Огради верния отговор.

- а) 24
- б) 26
- в) 16



4. Напиши поздравителна картичка до баба, която днес има рожден ден.

	<hr/> <hr/> <hr/> <hr/> <hr/> <hr/> <hr/> <hr/> <hr/> <hr/> <hr/>
--	---

5. Състави задача по показания пример:

$$4 + 3.4$$

Пример:

Иван има 4 ябълки. Неговите трима приятели също имат по 4 ябълки. Колко ябълки общо имат четиримата?

6. Правоъгълна леха има обиколка 28 метра. Дължината ѝ е 9 метра. Намери ширината на лехата и напиши отговора.

7. Кое число е:

- а) два пъти по-голямо от 7?
б) шест пъти по-малко от 18?
в) със седем по-голямо от 44?
г) с 13 по-малко от 32?
д) четири пъти по-голямо от 9?


8. В коя от посочените различни групи са изброени САМО членове на семейството? Огради верния отговор.

- а) майка, баща, брат, сестра;
б) дядо, баба, чичо, госпожата;
в) леля, чичо, братовчед, съседката.

9. Кои празници са отбелязани в семейния календар? Огради верния отговор.

- а) 1 ноември – Ден на народните будители
б) рождени и именни дни на членовете на семейството
в) 24 май – Ден на славянската писменост и българската просвета и култура.

10. Ако подредиш последователно първите букви от названията на предметите от картинките, ще получиш названието на едно бедствие. Кое е то? Напиши го.



Бедствието е _____.

11. Във всяка група животни има по едно, което е включено неправилно.

Открий кое е то и го задраскай.

славей	крава	шаран
лястовица	котка	скумрия
бръмбар	мечка	кон
врабче	пчела	пъстърва

12. Подреди единиците за измерване на времето по големина, като започнеш от най-малката.

денонощие, месец, час, минута, година, секунда, седмица

13. Напиши името на родното си място.
